

třída:

jméno:

EVROPSKÁ UNIE

1. Do mapy barevně zakreslete a vypište státy, které jsou členy EU.



2. Vysvětlete, co znamená schengenský prostor.

3. Doplňte, co značí tyto vlajky nebo znaky.



1



2



3



4

1. _____

2. _____

3. _____

4. _____

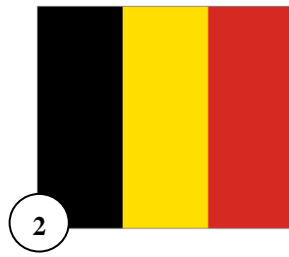
4. **Podtrhněte státy EU, kde se NEPOUŽÍVÁ společná evropská měna euro. Na řádek napište, jaké měny se v těchto zemích používají.**

Slovensko, Polsko, Francie, Česká republika, Bulharsko, Německo, Velká Británie, Itálie, Švédsko


5. **Podle vlajek států určete, kterých 6 států stálo o zrodu této organizace.**



1. _____



2. _____




3. _____



4. _____



5. _____



6. _____

6. **Doplňte následující informace:**

a) Ve kterém roce vstoupila ČR do EU? _____

b) Kolik členských států má v současné době EU? _____